



سوالات عیدانه اختیاری دانش آموزان پایه سوم

دبستان پسرانه **هوشمند** امام رضا (ع)

نوروز ۹۹

سوالات فارسی

۱- نسبت کلمه ی ((آثار به اثر)) مانند کلمه ی ((احادیث)) است به

۲- در بیت زیر کدام کلمه ها مخالف هستند؟

باغ در حال قیام کوه در حال رکوع
آفتاب و ماهتاب در غروب و در طلوع

۳- جمله ی ((خلقی بر سماط او گرد آمده اند)) به چه معنی است ؟

۴- ملک الشعرا لقب کدام شاعر است ؟

۵- با رعایت قوانین بندنویسی دو بند زیبا درباره ی استفاده ی درست از اوقات فراغت بنویسید.

سوالات ریاضی

۱- طنابی را به شکل مستطیل درآوردیم . طول آن ۶ متر و عرض آن ۴ متر شد .
اگر آنرا به شکل مربع درآوریم اندازه ی هر ضلع مربع و مساحت مربع چقدر
می شود؟

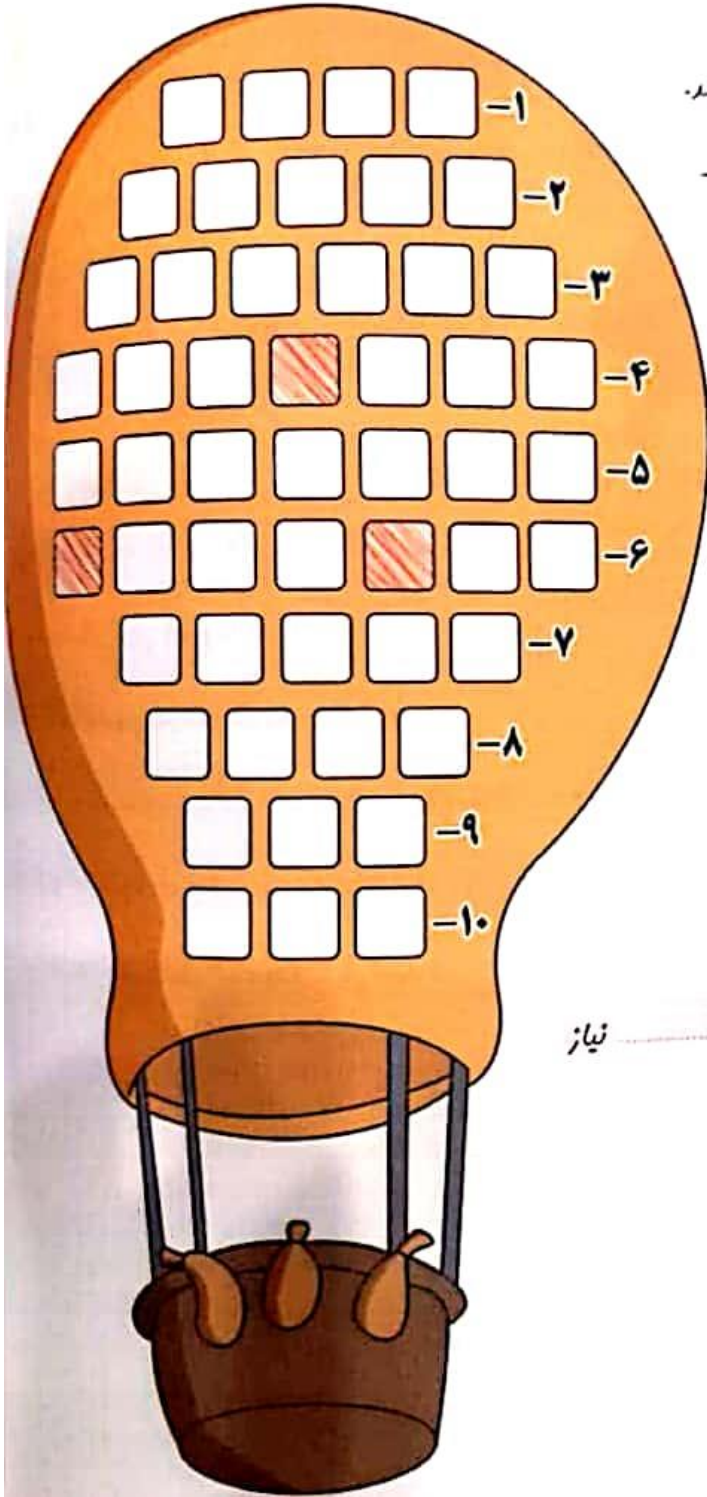
۲- یک ورق کاغذ را دو بار تا بزنید . چند زاویه به وجود می آید ؟

۳- قطرهای یک مستطیل را رسم کنید سپس تعداد پاره خط ها را مشخص
نمایید .

۴- در یک صف سارا از سمت چپ نفر نهم و از سمت راست نفر دوازدهم است .
این صف چند دانش آموز دارد ؟

۵- دو خط موازی رسم کنید . اندازه ی دو خط را نصف کنید.فاصله ی بین دو
خط چه تغییری می کند ؟

سوالات علوم



- ۱ واحد اندازه‌گیری حجم مایعات
- ۲ تبدیل مایع به گاز را می‌گویند.
- ۳ تبدیل مایع به جامد را می‌گویند.
- ۴ مقدار ماده‌ی تشکیل‌دهنده‌ی اجسام - خوردن زیادی در غذا مفید است.
- ۵ واحد اندازه‌گیری جرم اجسام
- ۶ به هر سه حالت در طبیعت بافت می‌شود. - این حالت ماده‌ی حجم مشغفی ندارد.
- ۷ وسیله‌ی اندازه‌گیری جرم اجسام
- ۸ این حالت ماده‌ی حجم مشغفی دارد ولی شکل معینی ندارد.
- ۹ تبدیل جامد به مایع را می‌گویند.
- ۱۰ برای انجام کارهای روزمره و بازی به نیاز داریم.

برای پر کردن جاهای خالی از کلمات داده شده استفاده کنید و بنویسید.

مایع شدن

مایع


ذوب

تبخیر

گاز

انجماد

جامد



به
()



به
()



به
()



به
()




به
()



به
()

مواد غذایی زیر را در جدول قرار دهید.



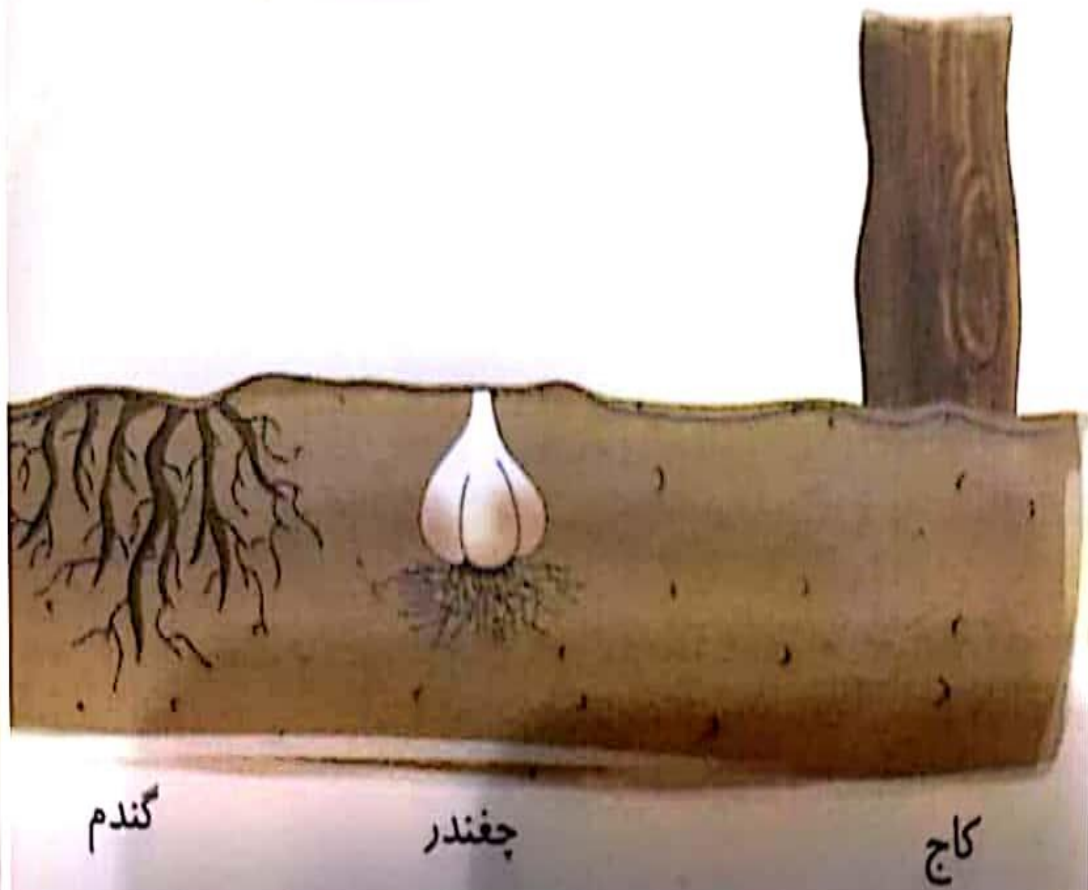
گروه چربی

گروه ویتامین

گروه نشاسته

گروه پروتئین

اجزای مناسب (برگ، میوه، دانه و ریشه) را بکشید.



برای هر تصویر، جمله‌ای پندآموز بنویسید.

